

新興出版社の教材は、  
移行措置に対応しています！



平成21年度(2009年度)・平成22年度(2010年度)

**追加資料 新学習指導要領 先行実施・移行措置編**

★本資料について

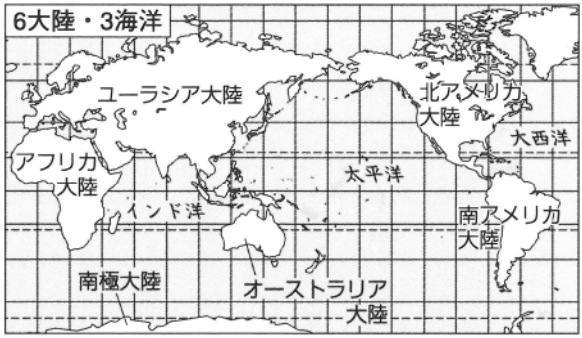
- ・この「先行実施・移行措置編」の資料は、移行措置の内容を「まとめ」「練習」できるようになっています。
- ・平成20年に文部科学省が発表した内容をもとに、平成21・22年度の2年間の移行措置内容を掲載しています。該当年度にあわせてご利用ください。
- ・「もくじ」の年度欄の「追加」はその年度に追加される内容を示しています。「追加」の内容は、学校の学習状況などによって異なる場合がありますので、ご了承ください。

社会5年	もくじ	21年度 (2009年度)	22年度 (2010年度)
世界のおもな大陸と海洋	} ..... 2～3	追加	追加
* 世界のおもな国々		追加	追加
わが国の位置と領土	..... 4	追加	追加
こたえ	..... 4		

\*「世界のおもな国々」とは、平成20年文部科学省発表資料における「世界の主な国の名称と位置」にあたります。

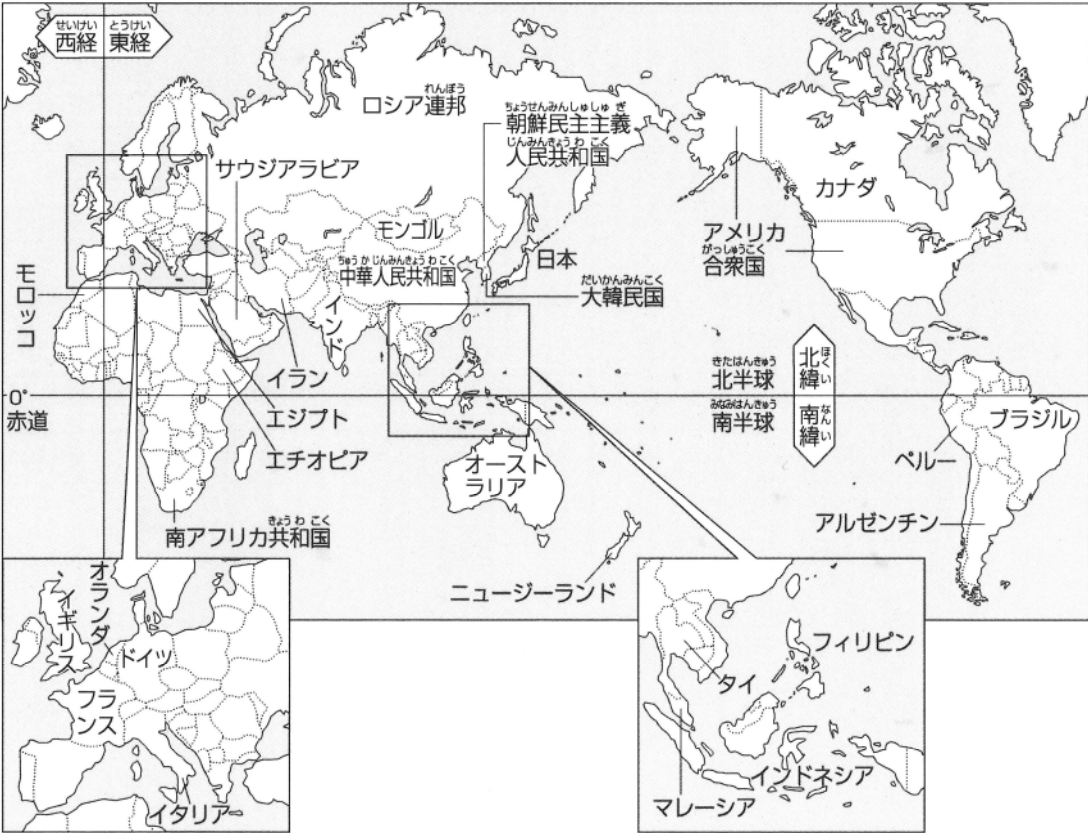
**世界のおもな大陸と海洋**

世界には、右図のように、ユーラシア大陸、北アメリカ大陸、南アメリカ大陸、アフリカ大陸、オーストラリア大陸、南極大陸の6大陸と、太平洋、大西洋、インド洋の3海洋があり、日本は、ユーラシア大陸の東方に位置しています。



**世界のおもな国々**

世界には190あまりの国があり、南極大陸以外のいずれかの大陸にあります。日本と関係の深い国の名前と位置を下の地図でたしかめ、それぞれの国の国旗も、地図帳で調べましょう。



**1 次の問いに答えなさい。**

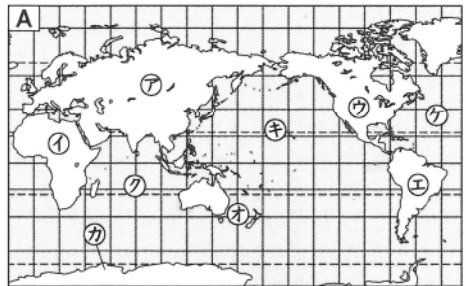
(1) 6大陸のうち、面積がいちばん大きい大陸名を( )に書き、次ページのAの地図からその大陸の記号を選んで、[ ]に書きなさい。

( )大陸 [ ]

(2) 3海洋のうち、日本のまわりにある海洋を( )に書き、Aの地図からその海洋の記号を選んで、[ ]に書きなさい。

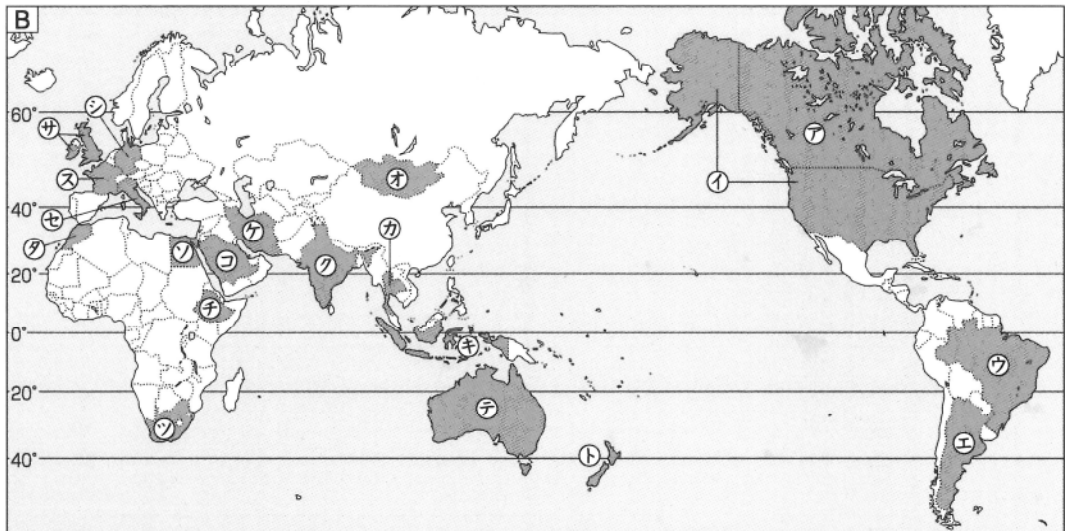
( ) [ ]

(3) 1つの国からなっている大陸名を書き、Aの地図からその大陸の記号を選んで、[ ]に記号を書きなさい。



( )大陸 [ ]

**2** 下のBの地図を見て、次の問いに答えなさい。



(1) 次の文にあたる国名を( )に書き、その国の位置を上の地図からさがして、記号を[ ]に書きなさい。

① 本土は、太平洋・大西洋の2つの海洋に面しています。この国のハワイ諸島へは、多くの日本人が旅行に行きます。( ) [ ]

② ユーラシア大陸の西のはしの方にある国で、長ぐつのような形をしています。( ) [ ]

③ 日本と同じ、東経135度の経線が国のほぼ真ん中を通る、南半球の国です。( ) [ ]

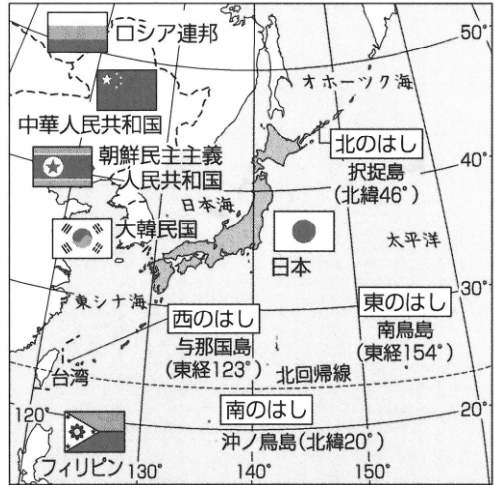
(2) 地図の⑦～⑩のうち、赤道が通る国の国名を( )に書き、その国の記号を[ ]に書きなさい。( ) [ ] ( ) [ ]

(3) 地図の⑦～⑩のうち、日本と同じ島国をさがし、国名を( )に書き、その国の記号を[ ]に書きなさい。( ) [ ]

( ) [ ] ( ) [ ]

## わが国の位置と領土

日本は、北海道・本州・四国・九州の4つの大きな島とまわりの小さな島々からなる島国で、オホーツク海・太平洋・日本海・東シナ海の4つの海にかこまれています。南鳥島、与那国島、沖ノ鳥島、択捉島が日本の東西南北のはしで、大韓民国など、右の地図のような国々ととなり合っています。



3 右の地図を見て、次の問いに答えなさい。

(1) 地図中のア～エは、日本の東西南北のはしの島です。それぞれの島の名前を書きなさい。

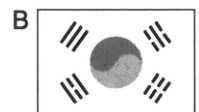
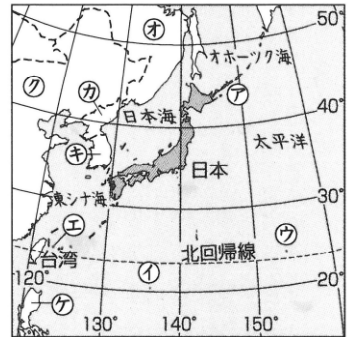
ア( ) イ( )  
ウ( ) エ( )

(2) A～Cの国旗は、日本のとなりの国のものです。それぞれの国の正式国名を( )に書き、その国の位置を地図からさがして、その記号を[ ]に書きなさい。

A( ) [ ] B( ) [ ]  
C( ) [ ]

(3) 地図中のアをふくむ島々は、現在、日本がオの国に返かんと求めている島々です。①これらの島々を合わせて、何とよんでいますか。( )

②オの国の正式国名を書きなさい。( )



➡ 地図帳や地球儀で具体的に調べ、緯度、経度で表せるようになりましょう。

### 《こたえ》

- 1 (1) ユーラシアア (2) 太平洋キ (3) オーストラリアオ  
2 (1) ① アメリカ合衆国イ ② イタリアセ ③ オーストラリアテ  
(2) ブラジルウ インドネシアキ  
(3) インドネシアキ イギリスフ ニューージーランドト  
3 (1) ア 択捉島 イ 沖ノ鳥島 ウ 南鳥島 エ 与那国島  
(2) A 中華人民共和国ク B 大韓民国キ C 朝鮮民主主義人民共和国カ  
(3) ① 北方領土 ② ロシア連邦



